

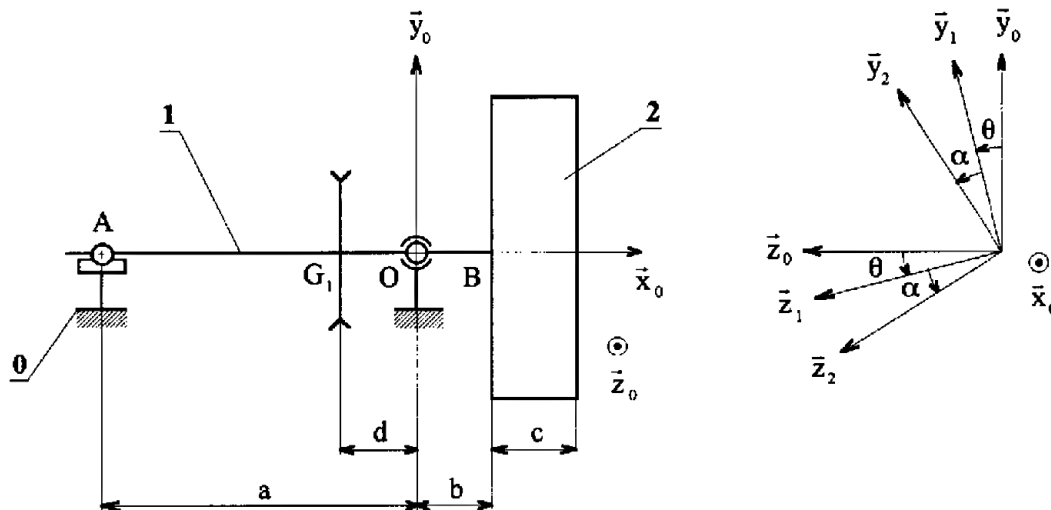


DYNAMIQUE

ÉQUILIBREUSE

1 Présentation

L'équilibreuse étudiée permet l'équilibrage des roues démontées. Elle est constituée d'un arbre **1** guidé en rotation par deux paliers à roulement en O et A . Ces paliers en liaison élastique avec le bâti 0 , dans une seule direction à l'aide de deux lames flexibles, permettent l'enregistrement des composantes horizontales des résultantes d'action mécanique dans les paliers à roulement, par l'intermédiaire de deux capteurs couplés à un repérage de la position angulaire de l'arbre **1**.



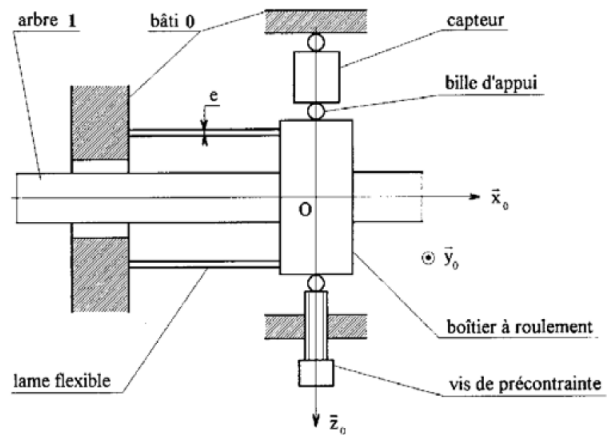
Objectif

Déterminer les masses des masselottes à rajouter sur une roue mal équilibrée, ainsi que leur position angulaire.

2 Données et hypothèses

- Le repère $R_0(O, \vec{x}_0, \vec{y}_0, \vec{z}_0)$ est lié au bâti **0** (\vec{y}_0 vertical ascendant).
- Le repère $R_1(O, \vec{x}_0, \vec{y}_1, \vec{z}_1)$ est lié à l'arbre **1**. On pose $\theta = (\vec{y}_0, \vec{y}_1)$ avec $\dot{\theta} = \text{cste}$.
- L'arbre **1** est entraîné en rotation par une courroie sur une poulie fixée au centre d'inertie G_1 de l'arbre **1**. Le torseur d'action mécanique de la courroie sur la poulie est de la forme :

$$\{\mathcal{T}_{C \rightarrow P}\}_{G_1} = \begin{Bmatrix} -T \cdot \vec{y}_0 \\ C_m \cdot \vec{x}_0 \end{Bmatrix}$$



L'arbre **1** (avec la poulie), de masse m_1 , a pour moment d'inertie I_1 par rapport à l'axe (O, \vec{x}_0) et est équilibré en rotation.

- La roue **2**, à équilibrer est fixée sur **1**. Le repère $R_2(B, \vec{x}_0, \vec{y}_2, \vec{z}_2)$ est lié à la roue **2** avec $\alpha = (\vec{y}_1, \vec{y}_2)$ angle constant mais a priori inconnu. La roue **2**, de masse m_2 , a pour centre d'inertie G_2 dont la position est donnée par $\vec{BG}_2 = h \cdot \vec{x}_0 + \rho \cdot \vec{z}_2$, h et ρ étant des inconnues. La matrice d'inertie en B de la roue **2** dans la base $(\vec{x}_0, \vec{y}_2, \vec{z}_2)$ est de la forme :

$$\bar{I}_{(B,2)} = \begin{pmatrix} A & -F & -E \\ -F & B & -D \\ -E & -D & C \end{pmatrix}_{b_2}$$

- On note les torseurs d'actions mécaniques de **0** sur **1** :

$$\{\mathcal{T}_{0 \rightarrow 1}^O\} = \begin{Bmatrix} X_O & 0 \\ Y_O & 0 \\ Z_O & 0 \end{Bmatrix}_{b_0} \quad \text{et} \quad \{\mathcal{T}_{0 \rightarrow 1}^A\} = \begin{Bmatrix} 0 & 0 \\ Y_A & 0 \\ Z_A & 0 \end{Bmatrix}_{b_0}$$

3 Travail demandé

Question 1 En appliquant le principe fondamental de la dynamique à l'ensemble $\{\mathbf{1}+\mathbf{2}\}$ en O , déterminer les composantes X_O, Y_O, Z_O, Y_A et Z_A des résultantes d'actions mécaniques du bâti **0** sur l'arbre **1** en fonction des données.

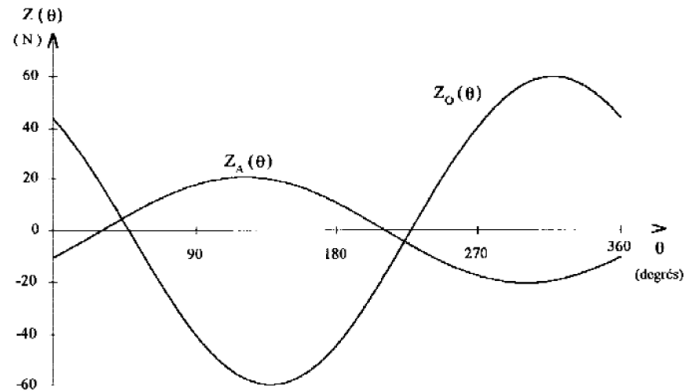
On utilise deux capteurs d'efforts, en O et A , situés dans un plan horizontal et couplés à un capteur angulaire de l'arbre **1**, pour mesurer les composantes suivant \vec{z}_0 des résultantes d'action mécanique $Z_O(\theta)$ et $Z_A(\theta)$ du bâti **0** sur l'arbre **1**.

Question 2 Déterminer, en fonction de $Z_O(0), Z_O(\frac{\pi}{2}), Z_A(0), Z_A(\frac{\pi}{2})$, les coordonnées ρ et α du centre d'inertie G_2 de la roue **2**, ainsi que les produits d'inertie E et F .

On donne :

- $m_2 = 18 \text{ kg}$
- $a = 460 \text{ mm}$
- $b = 80 \text{ mm}$
- $\dot{\theta} = 60 \text{ rad.s}^{-1}$

Les capteurs fournissent les courbes ci-contre ainsi que le tableau de valeurs ci-dessous :



θ (deg)	0	30	60	90	120	150	180	210	240	270	300	330
Z_O (N)	44,05	18,00	-12,86	-40,29	-56,92	-58,29	-44,05	-18,00	12,86	40,29	56,92	58,29
Z_A (N)	-10,53	-0,28	10,04	17,68	20,57	17,96	10,53	0,28	-10,04	-17,68	-20,57	-17,96

Question 3 En déduire les valeurs numériques de ρ , α , E et F .

La roue sera équilibrée avec deux masselottes **3** et **4**, assimilables à des points matériels M_3 et M_4 de masse m_3 et m_4 , situées de part et d'autre de la jante, de telle sorte que :

$$\overrightarrow{BM_3} = r \cdot \vec{u}_3 \quad \text{et} \quad \overrightarrow{BM_4} = c \cdot \vec{x}_0 + r \cdot \vec{u}_4 \quad \text{avec} \quad \beta_i = (\vec{z}_2, \vec{u}_i)$$

r étant le rayon de la jante et c son épaisseur.

Question 4 Écrire les conditions d'équilibrage de la roue **2**.

On pose : $r = 190 \text{ mm}$ et $c = 180 \text{ mm}$.

Question 5 En déduire les valeurs numériques de m_3 , m_4 , β_3 et β_4 .