



CINÉMATIQUE

TD

CPGE

Compétence visée: C1-06

v1.1

Lycée Jean Zay - 21 rue Jean Zay - 63300 Thiers - Académie de Clermont-Ferrand

Équations du mouvement LECTEUR DVD

1 Présentation

L'étude suivante portera sur un lecteur de DVD d'ordinateur. Le mécanisme de sortie de la trappe du lecteur de DVD est alimenté par un moteur 12 V, qui par un ensemble cinématique, permet la translation rectiligne du tiroir par rapport à la carcasse.

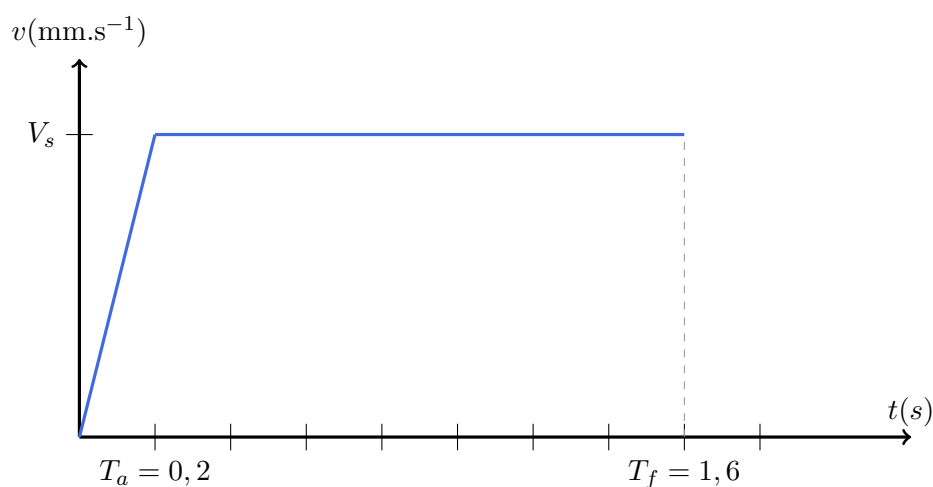


Objectif

On souhaite connaître la tension nominale à imposer au moteur lors d'une commande échelon afin d'ouvrir le tiroir.

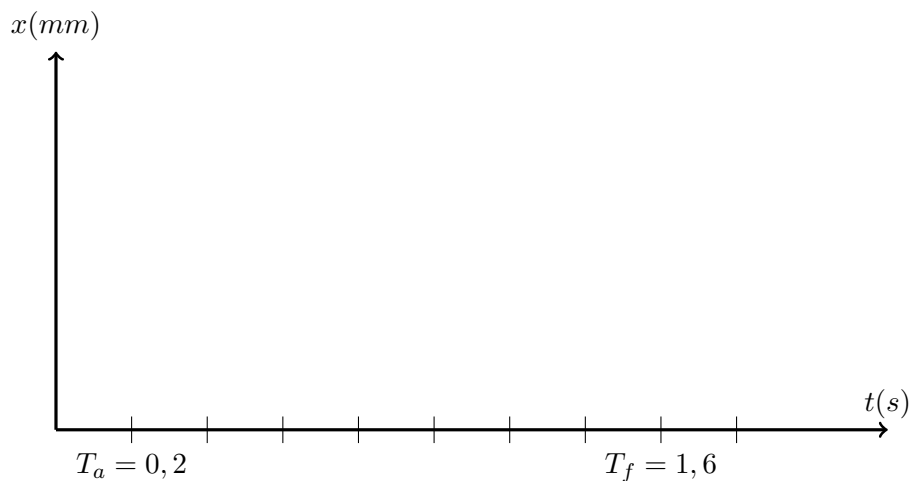
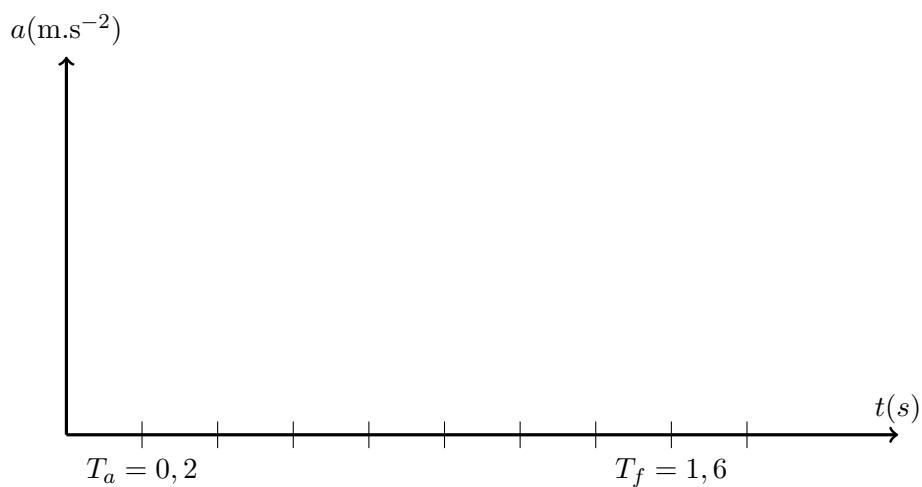
Données

- La course du tiroir vaut : $c = 130$ mm
- La loi de vitesse vous est donnée sur le graphe ci-dessous.



2 Travail demandé

- Question 1** Rappeler la définition d'un mouvement de translation ; ainsi que ses propriétés.
- Question 2** Préciser les différentes phases du mouvement du tiroir par rapport au bâti.
- Question 3** Écrire les équations génériques du mouvement.
- Question 4** Exprimer a_1 et x_1 en fonction de V_s et T_a . (a_1 = accélération de la phase 1 ; x_1 = condition initiale liée à la phase 2)
- Question 5** Déterminer numériquement V_s et a_1 .
- Question 6** Compléter les graphes d'accélération et de position suivant :



Le moteur est commandé de la manière suivante : 1 V équivalent 10 mm.s^{-1} (calcul cinématique non demandé).

- Question 7** Déterminer la valeur de l'échelon en tension nécessaire au bon fonctionnement.